

# ஆதித்யா TNPSC பயிற்சி மையம், காஞ்சிபுரம்

இராணி அண்ணாதுரை மகளிர் பள்ளி. செல் : 9786851468, 9952765173

Gr.-II (Non Interview)

மாதிரி தேர்வு

Date: 27.12.2015

1. திருச்சிற்றம்பலம் கோவை என்ற அடைமொழி பெற்ற நூலை இயற்றியவர்
  - A) ஆண்டாள்
  - B) மாணிக்கவாசகர்
  - C) திருநாவுக்கரசர்
  - D) சுந்தரர்
2. விடைக்கேற்ற வினாவை தேர்ந்தெடு
 

எட்டுத்தொகை நூல்களுள் ஒன்று நற்றிணை

  - A) எட்டுத்தொகை நூல்கள் யாவை?
  - B) நற்றிணை எட்டுத்தொகை நூல்களுள் ஒன்றா?
  - C) எந்த நூல் எட்டுத்தொகை நூல்களுள் ஒன்று?
  - D) எட்டுத் தொகை நூல்களுள் ஒன்று எது?
3. அடைப்பு குறிக்குள் இருக்கும் வினைச் சொல்லை காலத்திற்கு ஏற்றபடி பொருத்தமாக மாற்றி எழுதப்பட்ட வாக்கியம்?
 

இப்பொழுது நான் தேர்வு \_\_\_\_\_ (எழுது)

  - A) எழுதுகிறேன்
  - B) எழுதினேன்
  - C) எழுதுவேன்
  - D) எழுதிலேன்,
4. “முற்காலத் தமிழர் வரலாறு” என்னும் நூலை இயற்றியவர் யார்
  - A) A.K. சிவராஜபிள்ளை
  - B) மா. இராசமாணிக்கம்
  - C) மு. இராகவையங்கார்
  - D) ந.மு வேங்கடசாமி நாட்டார்

ஆதித்யா TNPSC பயிற்சி மையம், காஞ்சிபுரம், செல் : 9786851468, 9952765173

5. பட்டியல் I ல் உள்ள நூல்களை பட்டியல் II ல் உள்ள நூலாசிரியர்களுடன் பொருத்தி கீழே கொடுக்கப்பட்டுள்ள குறியீடுகளைக் கொண்டு சரியான விடையைத் தேர்ந்தெடு  
பட்டியல் I (நூல்) பட்டியல் II (நூலாசிரியர்)

- |                      |                      |
|----------------------|----------------------|
| A) காசிக் கலம்பகம்   | - 1. இரட்டைப் புலவர் |
| B) தில்லைக் கலம்பகம் | - 2. பாரதியார்       |
| C) எழில் ஓவியம்      | - 3. குமாரசுருபரர்   |
| D) பாஞ்சாலி சபதம்    | - 4. வாணிதாசன்       |

- |    |   |   |   |   |
|----|---|---|---|---|
|    | A | B | C | D |
| A) | 3 | 4 | 1 | 2 |
| B) | 1 | 2 | 4 | 3 |
| C) | 3 | 1 | 4 | 2 |
| D) | 4 | 2 | 3 | 1 |

6 இயற்கை இன்பக் கலம் என்னும் பெருமைக்குரிய நூல்

- |              |               |
|--------------|---------------|
| A) கலித்தொகை | B) அகநானூறு   |
| C) புறநானூறு | D) குறுந்தொகை |

7 “ஆடினான் பாடினன் ஆண்டும் ஈண்டும்பாய்ந்

தோடினன் உலாவினன் உவகைத்தேன் உண்டான்” - அடி எதுகையைத் தேர்க

- |           |                    |
|-----------|--------------------|
| A) ஆடினன் | - 1. ஆண்டும்       |
| B) ஆடினன் | - 2. ஈண்டும்பாய்ந் |
| C) ஆடினன் | - 3. உண்டான்       |
| D) ஆடினன் | - 4. தோடினன்       |

8 “வாள் போன்ற அறிவு” உவமையால் விளக்கப்பெறும் பொருத்தமான பொருளை தேர்ந்தெடுக்க

- |             |          |
|-------------|----------|
| A) பளபளப்பு | B) நீளம் |
| C) கூர்மை   | D) தட்டை |

9 விடைக்கேற்ற வினாவை தேர்ந்தெடு

“தேனிலே ஊறிய செந்தமிழின் - சுவை தேனும் சிலப்பதிகாரம்”

- |                              |                                     |
|------------------------------|-------------------------------------|
| A) தேனிலே ஊறியது எது?        | B) சிலப்பதிகாரத்தின் சிறப்பு எது?   |
| C) செந்தமிழின் சிறப்பு என்ன? | D) சிலப்பதிகாரம் எதன் சுவை போன்றது? |

ஆதித்யா TNPSC பயிற்சி மையம், காஞ்சிபுரம், செல் : 9786851468, 9952765173

10 சொற்களை ஒழுங்குபடுத்தி சொற்றொடராக்குக.

- A) நாடும் மொழியும் நமதிரு கண்கள்      B) நமதிரு நாடும் மொழியும் கண்கள்  
C) கண்கள் நாடும் மொழியும் நமதிரு      D) நமதிரு கண்கள் நாடும் மொழியும்

11. ஒலி வேறுபாடறிந்து சரியான பொருளைத் தேர்வக.

எள்      எல்

- A) எண்ணெய் வித்து      - 1. சூரியன்  
B) பொரி      - 2. சந்திரன்  
C) வலிமை      - 3. யானை  
D) கடுகு      - 4. பொரி

12. பட்டியல் I பட்டியல் II உடன் பொருத்தி கீழே கொடுக்கப்பட்டுள்ள குறியீடுகளைக் கொண்டு சரியான விடையை தேர்ந்தெடு

பட்டியல் I (நூல்)

பட்டியல் II (நூலாசிரியர்)

- A) ஆதி உலா      - 1. உமறுப்புலவர்  
B) குலோத்துங்கன் பிள்ளைத் தமிழ்      - 2. சேரமான் பெருமாள் நாயனார்  
C) சீறாப்புராணம்      - 3. அண்ணாமலை ரெட்டியார்  
D) காவடிச்சிந்து      - 4. ஒட்டக்கூத்தர்

	A	B	C	D
A)	4	1	2	3
B)	1	2	4	3
C)	2	4	1	3
D)	4	2	3	1

13 வழுச் சொற்களற்ற வாக்கியத்தை தேர்வு செய்க

- A) வேலன் நெத்தியில் திருநீர் அணிந்திருந்தான்  
B) வேலன் நெற்றியில் திருநீறு அணிந்திருந்தான்  
C) வேலன் நெத்தியில் விபூதி அணிந்திருந்தான்  
D) வேலன் நெத்தியில் திருநீறு அணிந்திருந்தான்

ஆதித்யா TNPSC பயிற்சி மையம், காஞ்சிபுரம், செல் : 9786851468, 9952765173

14 பிரித்து எழுதுக - அவரவர்

- A) அவர் + எவர்  
B) அவ + ரவர்  
C) அவரா + அவர்  
D) அவர் + அவர்

15 “மாயோன் மேய காடுறை உலகம்” - இதில் மாயோன் என்பது

- A) திருமால்  
B) முருகன்  
C) இந்திரன்  
D) வருணன்

16 புறநானூற்றுப் பாடலை நினைவுறுத்தும் பரிதிமாற் கலைஞரின் நாடகம்

- A) திக் விஜயம்  
B) மான விஜயம்  
C) மத்த விலாச பிரகடனம்  
D) அரிச்சந்திரன்

17. பட்டியல் I பட்டியல் II உடன் பொருத்தி கீழே கொடுக்கப்பட்டுள்ள குறியீடுகளைக் கொண்டு சரியான விடையை தேர்ந்தெடு

பட்டியல் I (நூல்)

பட்டியல் II (நூலாசிரியர்)

- A) பூங்கொடி - 1. பாரதியார்  
B) சீட்டுக்கவி - 2. முடியரசன்  
C) பழமொழி - 3. பாரதிதாசன்  
D) இசையமுது - 4. முன்றுரையாறையனார்

	A	B	C	D
A)	4	1	3	2
B)	2	1	4	3
C)	2	4	1	3
D)	4	2	3	1

ஆதித்யா TNPSC பயிற்சி மையம், காஞ்சிபுரம், செல் : 9786851468, 9952765173

18. பட்டியல் I பட்டியல் II உடன் பொருத்தி கீழே கொடுக்கப்பட்டுள்ள குறியீடுகளைக் கொண்டு சரியான விடையை தேர்ந்தெடு

பட்டியல் I		பட்டியல் II	
A) முதுகுடி	-	1.	செய்யுளிசை அளபெடை
B) வேட்கை	-	2.	வினைத்தொகை
C) இகூஉம்	-	3.	தொழிற்பெயர்
D) உழுவயல்	-	4.	பண்புத்தொகை

	A	B	C	D
A)	4	1	3	2
B)	2	1	4	3
C)	2	4	1	3
D)	4	3	1	2

19 அடை மொழியால் குறிக்கப் பெறும் நூல் தேர்க மக்களின் புற வாழ்க்கையை பற்றி கூறும் நூல்

- |              |              |
|--------------|--------------|
| A) நற்றிணை   | B) புறநானூறு |
| C) கலித்தொகை | D) அகநானூறு  |

20 பின்வரும் தொடரால் குறிக்கப் பெறும் சான்றோர்

“தமிழகத்தின் ஒற்றுமைக்கு கால்கோள் இட்ட தமிழ் சான்றோர்”

- |                |                  |
|----------------|------------------|
| A) அகத்தியர்   | B) தொல்காப்பியர் |
| C) பவனந்தியார் | D) இளங்கோவடிகள்  |

21 “ தொல்காப்பியர் காலத் தமிழ் மக்கள் இசைக் கலையைத் தங்கள் வாழ்க்கையின் ஒரு பகுதியாகவே கருதினர்” - இந்த விடைக்குரிய சரியான வினாத் தொடரை எடுத்தெழுதுக.

- A) வாழ்க்கையாவது யாது?
- B) இசைக்கலை என்றால் என்ன?
- C) தொல்காப்பியர் காலத் தமிழ் மக்கள் இசைக் கலையை எவ்வாறு போற்றினார் ?
- D) தொல்காப்பியர் வாழ்க்கை எத்தகையது?

ஆதித்யா TNPSC பயிற்சி மையம், காஞ்சிபுரம், செல் : 9786851468, 9952765173

22. ஒலி வேறுபாடறிந்து பொருத்துக.

- |    |             |   |               |
|----|-------------|---|---------------|
|    | அரன்        |   | அரண்          |
| A) | குபேரன்     | - | 1. அரசவை      |
| B) | தலைவன்      | - | 2. மென்மை     |
| C) | சிவபெருமான் | - | 3. பாதுகாப்பு |
| D) | வேலி        | - | 4. உள்ளம்     |

23. ஓரெழுத்து ஒரு மொழியைப் பொருத்துக

- |    |    |   |            |
|----|----|---|------------|
| A) | வை | - | 1. துன்பம் |
| B) | நா | - | 2. வைத்தல் |
| C) | நை | - | 3. யாத்தல் |
| D) | யா | - | 4. நாக்கு  |

	A	B	C	D
A)	2	4	1	3
B)	2	1	4	3
C)	2	4	3	1
D)	4	3	1	2

24. பனையோலையால் கூரை வேயப்பட்டது - இது எவ்வகை வாக்கியம்?

- |    |          |    |                   |
|----|----------|----|-------------------|
| A) | தன்வினை  | B) | பிறவினை           |
| C) | செய்வினை | D) | செய்ப்பாட்டு வினை |

25. “காடுகளில் மரங்கள் வளர்ந்தன” - இது எவ்வகை வாக்கியம்?

- |    |          |    |                   |
|----|----------|----|-------------------|
| A) | தன்வினை  | B) | பிறவினை           |
| C) | செய்வினை | D) | செய்ப்பாட்டு வினை |

26. சேர்த்து எழுதுக- அறிவு + அறிந்து

- |    |              |    |            |
|----|--------------|----|------------|
| A) | அறிவுஅறிந்து | B) | அறிவறிந்து |
| C) | அறிவுவறிந்து | D) | அறிஅறிந்து |

ஆதித்யா TNPSC பயிற்சி மையம், காஞ்சிபுரம், செல் : 9786851468, 9952765173

27. பட்டியல் I பட்டியல் II உடன் பொருத்தி கீழே கொடுக்கப்பட்டுள்ள குறியீடுகளைக் கொண்டு சரியான விடையை தேர்ந்தெடு

பட்டியல் I			பட்டியல் II	
A)	பேடை	-	1.	குதிரை
B)	கரி	-	2.	பகை
C)	செரு	-	3.	யானை
D)	பரி	-	4.	பெண் பறவை

	A	B	C	D
A)	2	4	1	3
B)	4	3	2	1
C)	2	4	3	1
D)	4	3	1	2

28 ஒருமை பன்மை பிழையற்றதைத் தேர்

- |                            |                            |
|----------------------------|----------------------------|
| A) ஓவியர் படத்தை வரைந்தனர் | B) ஓவியர் படத்தை வரைந்தது  |
| C) ஓவியர் படத்தை வரைந்தார் | D) ஓவியர் படத்தை வரைந்தான் |

29 தன்வினை வாக்கியத்தைக் கண்டறிக.

- |                                |                             |
|--------------------------------|-----------------------------|
| A) ஆசிரியர் பாடம் கற்பித்தார்  | B) உழவன் வயலில் ஏர் உழுதான் |
| C) அரசனால் கோயில் கட்டப்பட்டது | D) இயன்றதைச் செய்ய வேண்டும் |

30 “மாற்றான் தோட்டத்து மல்லிகைக்கு மணம்” என்று கூறியவர்

- |             |             |
|-------------|-------------|
| A) பெரியார் | B) கலைஞர்   |
| C) அண்ணா    | D) காமராசர் |

31 ஒருமை பன்மை பிழையற்றதைத் தேர்

- A) அவள் பாடிய பாட்டு அவை அல்லன்  
 B) அவள் பாடிய பாட்டு அவை அன்று  
 C) அவள் பாடிய பாட்டு அது அன்று  
 D) அவள் பாடிய பாட்டு அது அல்ல

ஆதித்யா TNPSC பயிற்சி மையம், காஞ்சிபுரம், செல் : 9786851468, 9952765173

32. பட்டியல் I பட்டியல் II உடன் பொருத்தி கீழே கொடுக்கப்பட்டுள்ள குறியீடுகளைக் கொண்டு சரியான விடையை தேர்ந்தெடு

பட்டியல் I

- A) அண்ணா விருது  
B) எம்.ஜி.ஆர் விருது  
C) கலைவாணர் விருது  
D) கவிஞர் கண்ணதாசன் விருது

பட்டியல் II

- 1. சிறந்த பாடலாசிரியர்க்கு  
- 2. சிறந்த நடிகருக்கு  
- 3. சிறந்த வசனகர்த்தாவிடற்கு  
- 4. சிறந்த நகைச்சுவை நடிகருக்கு

A B C D

- A) 2 4 1 3  
B) 4 3 2 1  
C) 2 4 3 1  
D) 3 2 4 1

33 வழுந்தல் - எதிர்ச்சொல் தருக

- A) வழகூறுதல் B) புகழ்தல்  
C) இகழ்தல் D) வளமை

34. ஒலி வேறுபாடறிந்து சரியான பொருளை தேர்

தரித்தல்

தறித்தல்

- A) அணிதல் -- 1. வெட்டுதல்  
B) ஏழ்மை அடைதல் -- 2. தறி ஒட்டல்  
C) வேடம் -- 3. கட்டுத்தறி  
D) சூழ்ச்சி -- 4. வேறுடல்

35 பொருந்தாச் சொல்லை கண்டறிக

- A) வெட்சி B) கரந்தை  
C) உழிளை D) முல்லை

36 மருங்கீண்டெழுகென - பிரித்து எழுதுக

- A) மருங்கு + ஈண்டு + எழுக + என B) மருங்கு+ஈண்டெழுக+என  
C) மருங்கீண்டு + எழுக +என D) மருங்கீண்டு + எழுகென

ஆதித்யா TNPSC பயிற்சி மையம், காஞ்சிபுரம், செல் : 9786851468, 9952765173



- 37 அறிவு அற்றம் காக்கும் கருவி - விடைக்கேற்ற விடையைத் தேர்ந்தெடு
- A) அழிவில் இருந்து காக்கும் கருவி எது?  
 B) அற்றம் என்பது என்ன?  
 C) அற்றம் என்பது என்ன வகைக் கருவி?  
 D) அறிவு எத்தகைய அறங்களைக் காக்கும்?
- 38 உலவு, உழவு - பொருள் தேர்க
- A) நடமாடு, பயிர்த்தொழில்  
 B) வேவு பார், கூடித்தொழில் செய்  
 C) உலவுதல், உழவுதல்  
 D) விவசாயம், ஏர்த்தொழில்
39. பொருத்துக
- A) வாலறிவன் - 1. அன்புடையவர்  
 B) பணிவிடை - 2. தொலைவு  
 C) சேய்மை - 3. கடவுள்  
 D) ஆர்வலர் - 4. குற்றேவல்
- |    | A | B | C | D |
|----|---|---|---|---|
| A) | 2 | 4 | 1 | 3 |
| B) | 3 | 4 | 2 | 1 |
| C) | 2 | 4 | 3 | 1 |
| D) | 4 | 3 | 1 | 2 |
- 40 பிறமொழிச் சொற்களற்றச் தொடர் எது?
- A) அபிஷேகம்  
 B) ஆஸ்தி  
 C) இலட்சணம்  
 D) திருமுழுக்கு
- 41 குன்றில் மேலிட்ட விளக்கு - என்ற உவமை விளக்கும் பொருள் தேர்க.
- A) விளக்கமாக  
 B) சுருக்கமாக  
 C) விசாலமாக  
 D) வெளிச்சமாக

42. பொருத்துக

- A) வேய் - 1. உணவு  
 B) உடுக்கை - 2. ஒருவகை மீன்  
 C) கயல் - 3. மூங்கில்  
 D) உண்டி - 4. ஆடை

	A	B	C	D
A)	2	4	1	3
B)	4	3	2	1
C)	3	4	2	1
D)	4	3	1	2

43. தெங்கம்பழம் - பிரித்து எழுதுக

- A) தெங்கு + பழம்  
 B) தெங்கு + அம் + பழம்  
 C) தெங்கம் + பழம்  
 D) தெங்கு + ப் + பழம்

44. பொருத்துக

- A) அறிமின் - 1. கூற்றம்  
 B) அஞ்சுமின் - 2. அறநெறி  
 C) பொறுமின் - 3. பெரியார் வாய்ச்சொல்  
 D) பெறுமின் - 4. கடுஞ்சொல்

	A	B	C	D
A)	2	1	4	3
B)	4	3	2	1
C)	2	4	3	1
D)	4	3	1	2

45. பின்வரும் தொடர்களில் வடமொழிச் சொல் நீங்கிய தொடர் எது?

- A) விசயை ராஜ்யமில்லா ராணியாவாள்  
 B) விசயை நாடற்ற ராணியாவாள்  
 C) விசயை நாடற்ற அரசியாவாள்  
 D) விசயை ராஜ்யமில்லா அரசியாவாள்

ஆதித்யா TNPSC பயிற்சி மையம், காஞ்சிபுரம், செல் : 9786851468, 9952765173

46. பொருத்துக

- A) சங்கரதாஸ் சுவாமிகள் - 1. வில்லுப்பாட்டு கலைஞர்  
 B) நாமக்கல் கவிஞர் - 2. குழந்தைக் கவிஞர்  
 C) அழ.வள்ளியப்பா - 3. விடுதலைக் கவிஞர்  
 D) கொத்தமங்கலம் சுப்பு - 4. நாடகக் கலைஞர்

	A	B	C	D
A)	2	4	1	3
B)	4	3	1	2
C)	2	4	3	1
D)	4	3	2	1

47 “செல்” என்னும் வேர்ச்சொல்லினை வினையாலனையும் பெயராக்குக.

- A) சென்றவன் B) சென்றனன்  
 C) சென்றான் D) செல்லுதல்

48. பொருத்துக

இலக்கண நூல்

நூலாசிரியர்

- A) தொன்னூல் விளக்கம் - 1. தொல்காப்பியர்  
 B) தண்டியலங்காரம் - 2. பவணந்தி முனிவர்  
 C) நன்னூல் - 3. வீரமாமுனிவர்  
 D) தொல்காப்பியம் - 4. தண்டி

	A	B	C	D
A)	2	4	1	3
B)	3	4	2	1
C)	2	4	3	1
D)	4	3	1	2

49 “திரு.வி.க நகர்” எவ்வகைப் பெயர்ச்சொல்லைச் சார்ந்தது என்று அறிக.

- A) காலப்பெயர் B) பொருட்பெயர்  
 C) இடப்பெயர் D) பண்புப் பெயர்

ஆதித்யா TNPSC பயிற்சி மையம், காஞ்சிபுரம், செல் : 9786851468, 9952765173

50. பொருத்துக

- A) எயில் - 1. பித்தம்  
 B) எயிப்பு - 2. இறைச்சி  
 C) ஊழை - 3. கோட்டை  
 D) ஊண் - 4. சோர்வு

	A	B	C	D
A)	2	4	1	3
B)	3	4	1	2
C)	3	4	2	1
D)	4	3	1	2

51 துறந்தார் பெருமை துணைக்கூறின் வையத்

திறந்தாரை எண்ணிக் கொண் டற்று - இதில் அமைந்துள்ள மோனை

- A) ஒரு உ மோனை B) கூழை மோனை  
 C) பொழிப்பு மோனை D) மேற்க்கதுவாய் மோனை

52. பொருத்துக

- A) திருவாசிரியம் - 1. ஆண்டாள்  
 B) நைடதம் - 2. பெரியாழ்வார்  
 C) திருப்பாவை - 3. நம்மாழ்வார்  
 D) திருப்பல்லாண்டு - 4. அதிவீரராம பாண்டியர்

	A	B	C	D
A)	2	4	1	3
B)	3	4	1	2
C)	2	4	3	1
D)	4	3	1	2

53 உவமையால் விளக்கப்படும் பொருத்தமான சொல்லை தேர்க

வெந்த புண்ணில் வேல் பாய்ச்சுவதுபோல்

- A) வருத்தம் B) நயவஞ்சகம்  
 C) பெருமிதம் D) பெரும்வேட்டை

ஆதித்யா TNPSC பயிற்சி மையம், காஞ்சிபுரம், செல் : 9786851468, 9952765173

54 பிரித்து எழுதுக - ஓட்டு வீடு

- A) ஓடு + வீடு  
B) ஓட்டு + வீடு  
C) ஓட் + வீடு  
D) ஓடம் + வீடு

55. ஒரெழுத்து ஒருமொழியைப் பொருத்துக

- A) ஐ - 1. அரசன்  
B) ஏ - 2. அம்பு  
C) அ - 3. அழகு  
D) ஓ - 4. உயர்வு

	A	B	C	D
A)	2	4	1	3
B)	4	3	2	1
C)	2	4	3	1
D)	1	2	3	4

56 முறையாக அமைந்த சொற்றொடரைத் தேர்க.

- A) பெரிது மானம் உயிரை விட  
B) உயிரை விட பெரிது மானம்  
C) உயிரை விட மானம் பெரிது  
D) மானம் பெரிது உயிரை விட

57. பொருத்துக

- A) யௌவனம் - 1. இளம்பெண்  
B) யோகி - 2. உடல்  
C) யாக்கை - 3. இளமை  
D) யுவதி - 4. யோகப்பயிற்சி

	A	B	C	D
A)	2	4	1	3
B)	4	3	2	1
C)	3	4	2	1
D)	4	3	1	2

ஆதித்யா TNPSC பயிற்சி மையம், காஞ்சிபுரம், செல் : 9786851468, 9952765173

58 பொருந்தாச் சொல்லை கண்டறிக

- A) நெற்பயிர் B) தென்னை  
C) பனை D) ஆலமரம்

59. ஒலிவேறுபாடறிந்து சரியான சொற்களைத் தேர்ந்து எடுக்கவும்

கழி கலி

- 1) பதம் - அ. உப்பங்கழி  
2) ஓசை - ஆ. உப்பங்கழி  
3) உப்பங்கழி - இ. ஓசை  
4) சுங்கம் - ஈ. திணை

60 வேர்ச் சொல்லைத் தொழிற்பெயராக்குக

- A) செப்பினாள் B) செப்பியவளை  
C) செப்பி D) செப்புதல்

61. பொருத்துக

- 1) தொடறி - அ. செடிவகை  
2) தொர்பு - ஆ. பாட்டு  
3) தேர் - இ. இரதம்  
4) தேனு - ஈ. பசு

	A	B	C	D
A)	1	2	3	4
B)	4	3	2	1
C)	2	4	3	1
D)	4	3	1	2

62 உண்டாலம்ம இவ்வுலகு என்ற பாடலடிகள் இடம் பெறும் நூல்

- A) நற்றிணை B) கலித்தொகை  
C) புறநானூறு D) அகநானூறு

63 தொன்னூல் என்ற அடைமொழியால் குறிக்கப் பெறும் நூல்

- A) நன்னூல் B) தொல்காப்பியம்  
C) வீரசோழியம் D) நேமிநாதம்

ஆதித்யா TNPSC பயிற்சி மையம், காஞ்சிபுரம், செல் : 9786851468, 9952765173

64 பொருந்தாச் சொல்லைச் தேர்க

- A) கல்வி  
B) செல்வம்  
C) வீரம்  
D) அழகை

65 சுரமஞ்சரியின் வரலாற்றைக் கூறும் காப்பியம்

- A) குண்டலகேசி  
B) சீவகசிந்தாமணி  
C) நீலகேசி  
D) வளையாபதி

66. பொருத்துக

- 1) கீல் - அ. பாட்டு  
2) கீதி - ஆ. முட்டு  
3) கிழம் - இ. தந்திரம்  
4) கிறி - ஈ. முதுமை

	A	B	C	D
A)	2	4	1	3
B)	4	3	2	1
C)	2	4	3	1
D)	2	1	4	3

67 அறைந்தனன் என்ற சொல்லின் வேர்ச்சொல்லை கண்டறிக

- A) அறு  
B) அறை  
C) அறைந்  
D) அறைக

68 ஒருமை பன்மை பிழைகளை நீக்குக

- A) பசு வந்தது ; கன்று ஓடின  
B) பசு வந்தன ; கன்றுகள் ஓடியது  
C) பசுக்கள் வந்தது ; கன்று ஓடியது  
D) பசு வந்தது ; கன்றுகள் ஓடின

69 உவமையால் விளக்கப் பெறும் பொருத்தமான பொருளைத் தேர்ந்தெடுக்க

“ஆப்பசைத்த குரங்கு போல”

- A) பண்புத்தொகை  
B) குறுந்தொகை  
C) விழுதல்  
D) அலைச்சல்

ஆதித்யா TNPSC பயிற்சி மையம், காஞ்சிபுரம், செல் : 9786851468, 9952765173

70 நெடுந்தொகை எதிர்ச்சொல் தருக

- A) பண்புத்தொகை  
B) குறுந்தொகை  
C) அன்மொழித் தொகை  
D) வினைத்தொகை

71 மரபுப் பிழைகளை நீக்குக

- A) பனையோலை  
B) பனையிலை  
C) பனங்கீற்று  
D) பனைமடல்

72 சிற்றில் நற்றுண் பற்றி எனும் தொடர் இடம் பெற்றுள்ள இலக்கியம்

- A) நெடுநல்வாடை  
B) அகநானூறு  
C) பரிபாடல்  
D) புறநானூறு

73. பொருத்துக

- 1) சிவகாமியம்மாள் - அ. முதல் அமைச்சர்  
2) எறிபத்தர் - ஆ. தவமுனிவர்  
3) புகழ்ச்சோழன் - இ. நாயனார்  
4) சேக்கிழார் - ஈ. அரசர்

	A	B	C	D
A)	2	4	1	3
B)	4	3	2	1
C)	2	3	4	1
D)	4	3	1	2

74 “மாறி வருவன் மயங்கா தொழிலென” என்று இளங்கோவடிகள் கோவலன் வாயிலாகக் கூறுவது

- A) மாதவி  
B) ஐயை  
C) கண்ணகி  
D) மாதரி

75 “ஈவது விலக்கேல்” இத்தொடரில் காணும் வாக்கியத்தை குறிப்பிடுக

- A) வியப்பு வாக்கியம்  
B) தொடர்வாக்கியம்  
C) தனிவாக்கியம்  
D) கட்டளை வாக்கியம்

ஆதித்யா TNPSC பயிற்சி மையம், காஞ்சிபுரம், செல் : 9786851468, 9952765173



- 76 சொல்லுக சொல்லிற் பயனுடைய சொல்லற்க  
சொல்லிற் பயனிலாச் சொல் - மோனையைத் தேர்ந்தெடு
- A) சொல்லுக - பயனிலா B) சொல்லுக - பயனுடைய  
C) சொல்லுக - சொல்லிற் D) சொல்லுக - பயிர்

- 77 நாமெல்லாம் ஒரே மரத்தின் இலைகள் என்று குறிப்பிட்டவர்
- A) காந்தியடிகள் B) நேரு  
C) கோபால் கிருட்டிண கோகலே D) இந்திரா காந்தி

78. பொருத்துக

- 1) இடுகுறிப்பெயர் - அ. கல்  
2) பொதுப்பெயர் - ஆ. தான்  
3) ஓசா - இ. ஈறுகெட்ட எதிர்மறை பெயரெச்சம்  
4) படர் முகில் - ஈ. வினைத்தொகை

	A	B	C	D
A)	2	4	1	3
B)	4	3	2	1
C)	1	2	3	4
D)	4	3	1	2

- 79 பிழையற்ற சொல்லைத் தேர்க
- A) குடிக்கலி B) கட்டலம்  
C) துடப்பம் D) கோடாலி
- 80 செய் உயர்திணைப் பெண்பால் வினைமுற்று யாது?
- A) செய்தான் B) செய்தது  
C) செய்பவர் D) செய்வாள்

81. பொருத்துக

- 1) சோர்வு - அ. தவளை  
 2) நாவாய் - ஆ. மறதி  
 3) நுணல் - இ. பாம்பு  
 4) அரவம் - ஈ. படகு

	A	B	C	D
A)	2	4	3	1
B)	4	3	2	1
C)	2	4	1	3
D)	4	3	1	2

82 விடைக்கேற்ற வினாவைத் தேர்வு செய்க

“ஆலும் வேலும் பல்லுக்குறுதி”

- A) எது பல்லுக்குறுதி? B) பல்லுக்குறுதி எது?  
 C) ஆலும் வேலும் பல்லுக்குறுதியா? D) எவை பல்லுக்குறுதி?

83 பண்டைக்கால போர் முறைகளைக் கூறும் நூல்

- A) திருக்குறள் B) அகநானூறு  
 C) புறநானூறு D) மணிமேகலை

84 கண்டான் வணங்கினான் - கோட்ட சொல்லின் இலக்கணக் குறிப்பைக் கண்டறிக

- A) தொழிற்பெயர் B) பண்புத்தொகை  
 C) வினையெச்சம் D) முற்றெச்சம்

85 குறுமுனி எனப்படுபவர்

- A) வள்ளுவர் B) அகத்தியர்  
 C) திரு.வி.க D) பாரதியார்

86 கூற்று - பாரதம் அடங்களும் பசிப்பிணி போக்கலும் மணிமேகலையின் நோக்கமாகும்  
 காரணம் - சமூக சீர்திருத்ததை மாற்ற எண்ணியதால்

- A) கூற்று, காரணம் இரண்டும் தவறு B) கூற்று, காரணம் இரண்டும் சரி  
 C) கூற்று சரி, காரணம் தவறு D) கூற்று தவறு, காரணம் சரி

ஆதித்யா TNPSC பயிற்சி மையம், காஞ்சிபுரம், செல் : 9786851468, 9952765173

87. தவறான இணையைத் தேர்க

- 1) வேதியர் ஒழுக்கம் – அ. வீரமாமுனிவர்
- 2) நல்வழி – ஆ. ஓளவையார்
- 3) தமிழ்வியாசர் – இ. மாணிக்க வாசகர்
- 4) திருத்தொண்டர் தொகை – ஈ. சுந்தரர்

88 கீழ்க்கண்டவற்றுள் தவறானது எது?

- A) சீவகனின் தாய் பெயர் விசயை
- B) சீவசிந்தாமணி விருத்தப் பாவில் அமைந்த முதல் நூல்
- C) சீவகன் “வருணன்” என்று அழைக்கப்பட்டாள்
- D) சீவக சிந்தாமணி பதின்மூன்று படலங்களைக் கொண்டது

89. பொருத்துக

- A) சபாபதி – 1. பம்மல் சம்பந்த முதலியார்
- B) எதிர்பாராத முத்தம் – 2. பாரதிதாசன்
- C) ஞானரதம் – 3. பாரதியார்
- D) புதியதும் பழையதும் – 4. உ.வே.சா

	A	B	C	D
A)	1	2	3	4
B)	4	3	2	1
C)	1	2	4	3
D)	4	3	1	2

90 கூற்றுகளை ஆராய்க

கூற்று 1- திரு மந்திரம் 9 தந்திரங்களாகப் பகுக்கப்பட்டுள்ளது

காரணம் 2 - திருமந்திரம் ஒரு சைவ சமய பற்று நூல்

- A) கூற்று 1 மட்டும் சரி
- B) கூற்று 2 மட்டும் சரி
- C) கூற்று 1 மற்றும் 2 சரி
- D) கூற்று 1 மற்றும் 2 தவறு

ஆதித்யா TNPSC பயிற்சி மையம், காஞ்சிபுரம், செல் : 9786851468, 9952765173

91. பொருத்துக

- 1) கண்ணதாசன் - அ. குமரிக் கோட்டம்  
 2) அண்ணாதுரை - ஆ. அர்த்தமுள்ள இந்துமதம்  
 3) கல்கி - இ. அலைஓசை  
 4) பாரதிதாசன் - ஈ. தமிழ்ச்சியின் கூத்து

	A	B	C	D
A)	2	1	3	4
B)	4	3	2	1
C)	2	4	3	1
D)	4	3	1	2

92. ஓதம் என்ற சொல்லின் பொருள்

- A) வறுமை  
 B) துன்பம்  
 C) தீனெறி  
 D) வஞ்சனை

93. வேதம் தமிழ் செய்த மாறன் எனப் போற்றப்படுபவர்

- A) திருமங்கையாழ்வார்  
 B) குமரகுருபரர்  
 C) தாயுமானவர்  
 D) நம்மாழ்வார்

94. “உண்டால் அம்ம இவ்வுலகம்” என்ற புறநானூற்றுப் பாடல் வரியை பாடியவர்

- A) ஓளவ்வையார்  
 B) கூடலூர் மாய்ந்த இளம் பெரும்வழுதி  
 C) ஆதிமந்தியார்  
 D) பொன்முடியார்

95. “Traitor” என்ற ஆங்கிலச் சொல்லுக்கு நேரான தமிழ்சொல் தேர்ந்தெடுக்க

- A) மாலுமி  
 B) கைதி  
 C) தொழிலாளி  
 D) துரோகி

ஆதித்யா TNPSC பயிற்சி மையம், காஞ்சிபுரம், செல் : 9786851468, 9952765173

96. பொருத்துக

- A) சிறுபஞ்ச மூலம் – 1. சைவ சமயக் குறவர் மூவர்  
 B) ஏலாதி – 2. காரியாசான்  
 C) தேவாரம் – 3. கணிதமேதாவியார்  
 D) இராவணக்காவியம் – 4. புலவர் குழந்தை

	A	B	C	D
A)	2	3	1	4
B)	4	3	2	1
C)	2	4	3	1
D)	4	3	1	2

97. பொருத்துக

- A) திருவோணம் – 1. காலப் பெயர்  
 B) தலைவன் – 2. பொருட்பெயர்  
 C) அடித்த மாணவன் – 3. பெயரெச்ச வினை  
 D) சேர சோழர்கள் – 4. உம்மைத்தொகை

	A	B	C	D
A)	1	2	3	4
B)	4	3	2	1
C)	2	4	3	1
D)	4	3	1	2

98. பொருந்தாததை கண்டறிக

- A) விசம்பு , பரிதி – 1. நட்சத்திரம், நிலவு  
 B) விசம்பு , பரிதி – 2. ஆகாயம், நட்சத்திரம்  
 C) விசம்பு , பரிதி – 3. தாமரை, சூரியன்  
 D) விசம்பு , பரிதி – 4. ஆகாயம், சூரியன்

99 தமிழறிஞர் என்னும் சிறப்புப் பெயர் பெற்றவர்

- A) கல்கி B) ஜீவானந்தம்  
 C) கி.வா. ஜெகநாதன் D) ரங்கராஜன்

ஆதித்யா TNPSC பயிற்சி மையம், காஞ்சிபுரம், செல் : 9786851468, 9952765173

100. பொருத்துக

- A) இடியெனச் சங்கு தழங்கின - கார் என முரசு முழங்கின - 1. பாரதிதாசன்
- B) பாடாத தேனீக்கள் உலாவத் தென்றல் - 2. கவிமணி தேசிய விநாயம் பிள்ளை பசியாத நல்வயிறு பார்த்த துண்டோ?
- C) உள்ளத்துள்ளது கவிதை - இன்பம் உருவெடுப்பது கவிதா - 3. புலவர் குழந்தை
- D) சாகும் போதும் தமிழ் படித்துச் சாக வேண்டும் - 4. மு.மேத்தா என் சாம்பல் தமிழ் மணந்து வேக வேண்டும்

	A	B	C	D
A)	2	3	1	4
B)	4	3	2	1
C)	3	4	2	1
D)	4	3	1	2

101. பொருளறிந்து பொருத்துக

பட்டியல் - I

பட்டியல் - II

- A) பணம் அச்சடிப்பு -- வணிக வங்கிகள்
- B) ரொக்க இருப்பு வீதம் - மறுகழிவு வீதம்
- C) வங்கி வீதம் - வணிகர்களுக்கு வழங்கப்பட்டுள்ள வசதி
- D) மிகைப்பற்று - வைப்பு தொகையில் ஒரு குறிப்பிட்ட சதவீதம் பெறுதல்
- E) நாட்டுடைமையாக்கப்படல் - இந்திய ரிசர்வ் வங்கி

	A	B	C	D	E
a)	5	4	2	3	1
b)	5	4	3	1	2
c)	4	5	1	2	3
d)	1	2	3	4	5

ஆதித்யா TNPSC பயிற்சி மையம், காஞ்சிபுரம், செல் : 9786851468, 9952765173

102. லோக் பிரிய கோபிநாத் பத்தெளலி பன்னாட்டு விமான நிலையம் அமைந்த இடம்
- A) அகமதாபாத் B) கோவா  
C) கௌகாத்தி D) அமிர்த்தரஸ்
103. தலா வருமானம் சுட்டிக்காட்டுவது
- A) மக்களின் செல்வநிலை B) மக்களின் ஏழ்மை நிலை  
C) மக்களின் வாழ்க்கை தரம் D) மக்களின் கல்வி நிலை
104. சிறந்த இணைய பஞ்சாயத்து மாநிலமாக (Best – e- Pachayat) தேர்வு செய்யப்பட்ட மாநிலம்
- A) மேகாலயா B) இராஜஸ்தான்  
C) அசாம் D) குஜராத்
105. பொருத்துக
- A) இனப்பெருக்க ஹார்மோன் – 1. ஆக்ஸிடோசின்/ரிலாக்ஸின்  
B) குழந்தை பிறப்பை எளிதாக்கும் ஹார்மோன் – 2. ஹார்மோன்  
C) சண்டை, பயமுறுத்தல், பதற்றம் – 3. அட்ரீனலின் எபிஃப்ரின்  
இவற்றிற்கு காரணமான ஹார்மோன்  
D) மூளை விழிப்புணர்வை தூண்டும் ஹார்மோன் – 4. FSH
- |    | A | B | C | D |
|----|---|---|---|---|
| A) | 1 | 3 | 4 | 2 |
| B) | 1 | 4 | 2 | 3 |
| C) | 4 | 1 | 2 | 3 |
| D) | 4 | 2 | 1 | 3 |
106. கிராப்புறங்களில் மக்கள் தொகை சதவீதத்தைக் கொண்டு மாநிலங்களை இறங்குவரிசையில் வரிசைப்படுத்தி சரியானதை தேர்வு செய்க
- I இமாச்சலபிரதேசம் II தமிழ்நாடு  
III மத்தியபிரதேசம் IV அருணாச்சலபிரதேசம்
- A) III, IV, I, II B) I, IV, III, II  
C) II, III, IV, I D) I, III, IV, II

ஆதித்யா TNPSC பயிற்சி மையம், காஞ்சிபுரம், செல் : 9786851468, 9952765173

107. வருணா (Varuna) என்பது எந்த இரு நாடுகளின் கடற்படைகளுக்கிடையே நடைப்பெற்ற கூட்டு பயிற்சி
- A) அமெரிக்கா (ம) இந்தியா                      B) பிரான்ஸ் (ம) இந்தியா  
C) சினா (ம) இந்தியா                                D) பிரேசிய (ம) இந்தியா
108. வெள்ளை யானை (White elephant) என்ற சொல் எதைக் குறிக்கிறது
- A) வங்கிகள் மேம்பாடு  
B) காப்பீட்டு நிறுவனங்கள் வளர்ச்சி  
C) நட்புறவில் இயங்கும் நிறுவனங்கள்  
D) துணி மற்றும் கதர் வாரியம் முன்னேற்றம்
- 109 மத்திய அரசு அறிவித்துள்ள ( PRASAD ) பிரசாத் திட்டத்தின் படி மீண்டும் புனரமைப்பு மற்றும் சுற்றுலா மேம்பாட்டிற்காக தேர்வான தமிழக ஆன்மீக நகரங்கள்
- A) மதுரை - ராமேஸ்வரம்                      B) கன்னியாகுமாரி - தென்காசி  
C) காஞ்சிபுரம் - தஞ்சாவூர்                      D) காஞ்சிபுரம் - வேளாங்கன்னி
110. பின்வருவனவற்றுள் எது சரியாக இணைக்கப்பட்டுள்ளது
- A) ராடார் - கதிர்வீச்சின் செறிவை அளவிட  
B) பல்சார் - மனிதனின் நாடித்துடிப்பை அளவிட  
C) சோனார் - நீரில் மூழ்கியுள்ள பொருளை கண்டுபிடிக்க  
D) குவாசர் - ஒரு குவாண்டத்தின் ஆற்றலை அளவிட
111. பொருத்துக
- A) சிவப்பு அணுக்கள் அதிகரித்தல்                      - 1. தைரோடாக்ஸிகோஸிஸ்  
B) புரத் குறைபாடு    - 2. பாலிசைத்தீமியா  
C) கிரேவின் நோய்    - 3. அல்ஸீமியர்  
D) 21 வது குரோமோசோமில் ஏற்படும் நோய்                      - 4. குவாஷியோர்க்கர் - மராசுமஸ்
- |    | A | B | C | D |
|----|---|---|---|---|
| A) | 2 | 3 | 4 | 1 |
| B) | 3 | 2 | 1 | 4 |
| C) | 3 | 1 | 4 | 2 |
| D) | 2 | 1 | 4 | 3 |

ஆதித்யா TNPSC பயிற்சி மையம், காஞ்சிபுரம், செல் : 9786851468, 9952765173



112. ஒரு பொருளிலிருந்து வெளிப்படும் வெப்பக்கதிர்களின் அளவு எதைப் பொறுத்தது?
- A) பரப்பின் இயல்பை பொறுத்தது  
B) பரப்பின் பரப்பளவு பொறுத்தது  
C) பரப்பின் வெப்ப நிலையை பொறுத்தது  
D) அனைத்தும்
113. தவறான இணையை தேர்ந்தெடு
- A) இரு காரத்துவ அமிலம் - பாஸ்பரஸ் அமிலம்  
B) முக் காரத்துவ அமிலம் - பாஸ்பாரிக் அமிலம்  
C) மெர்குரஸ் குளோரைடு - காஸ்டிக் சோடா  
D) ஷன்டர்கிரீன் தைலம் - மெத்தில் சாலிசிலேட்
114. பொருத்துக
- |                     |   | A                 | B    | C | D |   |
|---------------------|---|-------------------|------|---|---|---|
| A) ராண்ட்ஜன்        | - | 1. நீச்சல் விதி   | A) 1 | 2 | 3 | 4 |
| B) ஹென்றி பெக்கொரல் | - | 2. அணுக்கரு பிளவு | B) 4 | 3 | 1 | 2 |
| C) ஆட்டோஹான்        | - | 3. X கதிர்கள்     | C) 3 | 4 | 2 | 1 |
| D) ஆம்பியர்         | - | 4. கதிரியக்கம்    | D) 2 | 3 | 4 | 1 |
115. வெள்ளை நிற சிமெண்ட் வெள்ளையாக இருக்கக் காரணம் என்ன?
- A) கார்பன் இல்லாததால்  
B) சிலிக்கான் இல்லாததால்  
C) இரும்பு இல்லாததால்  
D) கால்சியம் இல்லாததால்
116. பொருத்துக
- |               |   | A             | B    | C | D |   |
|---------------|---|---------------|------|---|---|---|
| A) பாக்கைட்   | - | 1. துத்தநாகம் | A) 1 | 2 | 3 | 4 |
| B) கலீனா      | - | 2. மெர்குரி   | B) 2 | 3 | 4 | 1 |
| C) சின்ன பார் | - | 3. லெட்       | C) 3 | 4 | 1 | 2 |
| D) காலமைன்    | - | 4. அலுமினியம் | D) 4 | 3 | 2 | 1 |

117. நைலான் என்பது கீழ்க்கண்ட சேர்மங்களிலிருந்து தயாரிக்கப்படுகிறது

- A) மலோனிக் அமிலம் + ஹெக்சா மெத்தில் டை அமின்
- B) சக்சினிக் + ஹெக்சா மெத்தில் டை அமின்
- C) குளுடாரிக் அமிலம் + ஹெக்சா மெத்தில் டை அமின்
- D) அடிப்பிக் அமிலம் + ஹெக்சா மெத்தில் டை அமின்

118. கீழ்க்கண்டவற்றுள் சரியானதை தேர்வு செய்க

- 1) பணமசோதா மாநிலங்களவையில் தாக்கல் செய்யப்படும்
- 2) பணமசோதா மக்களவையில் தாக்கல் செய்யப்படும்
- 3) பணமசோதா இரண்டு அவையிலும் தாக்கல் செய்யப்படும்
- 4) பணமசோதாவை தாக்கல் செய்பவர் - சபாநாயகர்

- A) 1, 2 சரி
- B) 2, 4 சரி
- C) 1,2,4 சரி
- D) அனைத்தும் சரி

119. கீழ்க்கண்டவற்றுள் சரியானதை தேர்வு செய்க

- 1) குடியரசு தலைவர் தகுதிகள் பற்றி கூறும் விதி 58,
- 2) பிரதமரின் கடமைகள் பற்றி கூறும் விதி 78,
- 3) இந்திய தேர்தல் ஆணையம் பற்றி கூறும் விதி 324,
- 4) ஒவ்வொரு மாநிலத்திற்கும் ஒரு ஆளுநர் வேண்டும் என கூறும் விதி எண் 153,

- A) 1, 3 சரி
- B) 1, 4 சரி
- C) 1,2,4 சரி
- D) அனைத்தும் சரி

120. பொருத்துக

	A	B	C	D
A) நிதி நெருக்கடி	-	1.	விதி 370	A) 1 2 3 4
B) மாநில நெருக்கடி	-	2.	விதி 360	B) 2 3 4 1
C) தேசிய நெருக்கடி	-	3.	விதி 356	C) 3 4 1 2
D) ஜம்மு கஷ்மீர் சிறப்பு அந்தஸ்து	-	4.	விதி 352	D) 4 3 2 1

ஆதித்யா TNPSC பயிற்சி மையம், காஞ்சிபுரம், செல் : 9786851468, 9952765173

121. கீழ்க்கண்டவற்றுள் சரியில்லாததை தேர்ந்தெடு

- A) உள்ளாட்சி அமைப்புகளை பற்றி கூறும் விதி 40  
 B) இந்திய அரசியலமைப்பின் உயிர் நாடி என்று விதி எண் 32 - A குறிப்பிடப்படுகிறது  
 C) விதி எண் 21A ன் படி ஆரம்பக் கல்வி அடிப்படை உரிமை என அறிவிக்கிறது  
 D) மொழிகள் பற்றி கூறும் அட்டவணை 7 வது அட்டவணை ஆகும்

122. கலம் I உடன் கலம் II ஐ பொருத்துக

- |                            |                | A    | B | C | D |
|----------------------------|----------------|------|---|---|---|
| A) அடிப்படை கடமைகள்        | - 1. அமெரிக்கா | a) 1 | 2 | 3 | 4 |
| B) கூட்டாட்சி முறை         | - 2. ரஷ்யா     | b) 2 | 3 | 4 | 1 |
| C) அரசு நெறி செய் கோட்பாடு | - 3. கன்டா     | c) 3 | 4 | 1 | 2 |
| D) நீதி பேராண்மை           | - 4. அயரலாந்து | d) 4 | 3 | 2 | 1 |

123. பின்வரும் கூற்றுகளை கவனி

- 1) ஆரியர்கள் முதலில் குடியேறிய பகுதி கங்கை சமவெளி - ஆரியவர்த்தம்  
 2) ஆரியர்கள் முதலில் குடியேறிய பகுதி சப்த சிந்து- பஞ்சாப் (Pak) உள்ளது  
 A) இரண்டும் தவறு  
 B) இரண்டும் சரி  
 C) 1 மட்டும் சரி  
 D) 2 மட்டும் சரி

124. பொருத்துக

- A) சாஞ்சி ஸ்தூபி - 1. ராஷ்டிரகூடர்கள்  
 B) அமராவதி ஸ்தூபி - 2. போர்ச்சுகீசியர்கள்  
 C) எல்லோரா குகை - 3. மௌரியர்கள்  
 D) எலிபெண்டா குகை - 4. தென்னிந்தியாவின் பெரிய ஸ்தூபி

	A	B	C	D
A)	3	4	1	2
B)	3	4	2	1
C)	4	3	2	1
D)	4	3	1	2

ஆதித்யா TNPSC பயிற்சி மையம், காஞ்சிபுரம், செல் : 9786851468, 9952765173

125. பின்வரும் கூற்றுகளை கவனி – சரியானதை தேர்வு காண்

- 1) “இந்துக்களுக்கும் முஸ்லீம்களும் ஒரே களி மண்ணால் வடிவமைக்கப்பட்ட பாத்திரங்கள்  
“என கூறியவர் - கபீர்
  - 2) “அசத்தம் நிறைந்த இவ்வுலகில் சுத்தமாக வாழுங்கள்” - ராமானந்தர்
  - 3) சற்குண பிரம்மம், நிற்குண பிரம்மம் என்பது சங்கரர்
  - 2) ராமசரிதமானாஸ் என்ற நூலை இந்தியில் எழுதியவர் - ஞாம தேவர்
- A) 1,2 சரி B) 1,4 சரி  
C) 1,3 மட்டும் சரி D) அனைத்தும் சரி

126. பொருத்துக

- A) ஆரிய பட்டர் – 1. பஞ்சதந்திர கதை  
B) தன்வந்திரி – 2. புவியீர்ப்பு விசை  
C) பிரம்ம குப்தர் – 3. பையின் மதிப்பு (f)  
D) விஷ்ணு சர்மா – 4. ஆயுர்வேதம்

	A	B	C	D
A)	3	2	1	4
B)	3	2	4	1
C)	3	4	1	2
D)	3	4	2	1

127 பொருத்துக

- A) முஸ்லீம்களுக்கு தனி இடஒதுக்கீடு – 1. முகமது இக்பால்  
B) பாகிஸ்தான் என்ற சொல்லை உருவாக்கியவர் – 2. முகமது அலி ஜின்னா  
C) இஸ்லாமியர்களுக்கு தனி மாகாணம் – 3. ஆகாக்கான்  
D) (Pakistan) பாகிஸ்தான் தனி நாடு தீர்மானம் – 4. ரகமது அலி

	A	B	C	D
A)	3	2	4	1
B)	3	1	4	2
C)	4	3	2	1
D)	4	3	1	2

ஆதித்யா TNPSC பயிற்சி மையம், காஞ்சிபுரம், செல் : 9786851468, 9952765173

128. பொருத்துக

- A) தாவரசெல் சேமிப்பு பொருள் – 1. கிளைக்கோஜன்  
 B) விலங்கு செல் சேமிப்பு பொருள் – 2. ரிபோசோம்  
 C) செல் சுவாச உறுப்பு – 3. ஸ்டார்ச்  
 D) செல்லில் புரதத்தை உற்பத்தி செய்வது – 4. மைட்டோகாண்ட்ரியா
- |    | A | B | C | D |
|----|---|---|---|---|
| A) | 3 | 2 | 1 | 4 |
| B) | 1 | 4 | 3 | 2 |
| C) | 2 | 3 | 4 | 1 |
| D) | 3 | 1 | 4 | 2 |

129. பொருத்துக

நூல்

எழுதியவர்

- A) யங் இந்தியா (Young India) – 1. அன்னி பெசன்ட்  
 B) விவேக வர்த்தினி – 2. லாலா லஜபதி ராய்  
 C) தீன் மித்ரா – 3. கத்தூரி விரேசலிங்க பந்தலு  
 D) இந்திய தேசம் (India a nation) – 4. முகுந்த் ராவ் பட்டேல்

	A	B	C	D
A)	3	2	4	1
B)	3	2	1	4
C)	2	3	4	1
D)	2	3	1	4

130 பின்வரும் கூற்றுகளை கவனி - சரியானதை தேர்வு காண்

- 1) அக்பரின் வரிவசூல் முறைக்கு ஜப்தி முறை என்று பெயர்  
 2) சதி ஒழிப்பில் பெண்டிங் பிரபுவின் முன்னோடி - அக்பர்  
 3) அக்பர் இந்துக்களிடம் 1/3 பங்கு ஜசியா வரியை வசலித்தார்  
 2) தீன் இலாஹி மதத்தை ஏற்றுக் கொண்ட ஒரே இந்து தான்சேன்
- A) 1,2 சரி  
 B) 1,3,4 சரி  
 C) 1,2,4 மட்டும் சரி  
 D) 1 மட்டும் சரி

ஆதித்யா TNPSC பயிற்சி மையம், காஞ்சிபுரம், செல் : 9786851468, 9952765173

- 131 கீழ் கொடுக்கப்பட்டுள்ளவற்றுள் எது மிகச் சரியாக பொருந்துகிறது
- A) மத்தியில் இரட்டை ஆட்சி - 1935 ம் ஆண்டு சட்டம்  
 B) மாகாணங்களில் இரட்டை ஆட்சி - 1861 ம் ஆண்டு சட்டம்  
 C) இலாக்கா ஒதுக்கீடு - 1909 ம் ஆண்டு சட்டம்  
 D) தனித் தொகுதி ஒதுக்கீடு - 1919 ம் ஆண்டு சட்டம்
132. கீழே கொடுக்கப்பட்டுள்ள கூற்றுகளை கவனி  
 ரவீந்தரநாத் தாகூரின் படைப்புகளில் இல்லாதது
- A) தாகூர் நோபல் பரிசு பெற்ற முதல் ஐரோப்பியர் அல்லாதவர்  
 B) வங்கப் பிரிவினை போது இவர் எழுதிய பாடல் கீதாஞ்சலி  
 C) பங்களாதேஷ், இலங்கை, இந்தியா நாடுகளின் தேசிய பாடலை எழுதியவர் இவரே  
 D) ஜாலியன் வாலாபாக் படுகொலையின் போது தாகூர் திருப்பி அளித்த பட்டம் ரைட் உட்
- 133 சரியான வரிசையை தேர்க
- A) காந்தி தென்னாப்பிரிக்காவில் இருந்து இந்தியா திரும்பியது  
 B) சபர்மதி ஆசிரமத்தை தொடங்கியது  
 C) காந்தி தென்னாப்பிரிக்கா சென்றது  
 D) சாம்பரான் சத்தியாகிரக போராட்டம்
- A) 2,3,4,1 B) 2,3,1,4  
 C) 3,1,2,4 D) 3,1,4,2
- 134 பின்வரும் கூற்றை ஆராய்க  
 1857 ஆம் ஆண்டு சிப்பாய் கலகத்தில் சரியானது
- A) கொழும்பு தடவப்பட்ட தோட்டாக்களை முதலில் பயன்படுத்த மறுத்தவர் - ஈஸ்வரி பிரசாத்  
 B) மங்கள் பாண்டே புரட்சியின் போது ஜேம்ஸ் ஹோசன் என்ற அதிகாரியை சுட்டு கொன்று புரட்சியை தொடங்கினார்  
 C) புரட்சியின் போது மிரட் பகுதிக்கு தலைமை ஏற்றவர் - மவுளி முகம்மதுல்லா  
 D) காசியில் கர்னல் நீல் என்ற ஆங்கில தளபதி புரட்சியை கொடுரமாக அடக்கினார்
- A) 1, மற்றும் 3 B) 1, மற்றும் 4  
 C) 2, மற்றும் 4 D) 2, மற்றும் 3

135. பொருத்துக

- |   |   |                             |
|---|---|-----------------------------|
| A) சோடியம் கிளைக்கோலேட்                 | - | 1. நைட்ரஜனை நிலைப்படுத்தும் |
| சோடியம் டாருக்ளைக்கோலேட்                |   | பாக்டீரியா                  |
| B) பிலிருபன், பில்லிவிரிடின்            | - | 2. ஹார்மோன்                 |
| C) ரெனின், லாக்டோஸ் , இன்சலின்          | - | 3. பித்த நிறமிகள்           |
| D) ரைசோபியம், அசிட்லோபாக்டர் சூடோமோனாஸ் | - | 4. பித்த உப்புக்கள்         |

	A	B	C	D
A)	3	4	1	2
B)	4	3	1	2
C)	4	3	2	1
D)	1	3	4	2

136. பொருத்துக

- |                        |   |      |
|------------------------|---|------|
| A) 4 வது தமிழ்சங்கம்   | - | 1640 |
| B) மேட்டுர் அணை        | - | 1688 |
| C) சென்னை மாநகராட்சி   | - | 1836 |
| D) புனித ஜார்ஜ் கோட்டை | - | 1901 |

	A	B	C	D
A)	3	2	1	4
B)	4	1	3	2
C)	3	2	1	4
D)	4	3	2	1

137. பாரத ரத்னா விருது பெற்றவர்களை கால வரிசைப்படுத்து

- |                      |                    |
|----------------------|--------------------|
| A) M.S சுப்புலட்சுமி | B) பிஸ்மில்லா கான் |
| C) அன்னை தெரசா       | D) ரவிசங்கர்       |
| A) i,ii,iii,iv       | B) ii,iv,i,iii     |
| C) iii,i,iv,ii       | D) ii,iiii,i,iv    |

ஆதித்யா TNPSC பயிற்சி மையம், காஞ்சிபுரம், செல் : 9786851468, 9952765173

138 பின்வரும் மரபியல் சார்ந்த கூற்றுகளில் சரியான இணை

- A) நிரப்பு ஜீன் விகிதம் - 9:7
- B) மறைத்தல் ஜீன் விகிதம் - 9:3:3:1
- C) ஒரு பண்பு கலப்பு சோதனை விகிதம் - 12:3:1
- D) இரு பண்பு கலப்பு சோதனை விகிதம் - 9:3:4

139 பொருத்துக

- |  |   |                                       |
|--|---|---------------------------------------|
| A) அணுக்கரு உலையில் பயன்படும் எரிபொருள்        | - | 1. எதிரொளிப்பான்                      |
| B) அணுக்கரு உலையில் கட்டுபாட்டு தாழிகள்        | - | 2. $U^{235}$ , $PU^{239}$ , $U^{233}$ |
| C) அணுக்கரு உலையில் நியூட்ரான் கசிவை தடுப்பது  | - | 3. கனநீர் ( $D_2O$ )                  |
| D) அணுக்கரு உலையில் குளிர்விப்பானாக பயன்படுவது | - | 4. காட்மியம் போரான்                   |

	A	B	C	D
A)	2	4	1	3
B)	2	4	3	1
C)	2	1	3	4
D)	3	4	2	1

140 பின்வரும் கூற்றுகளை கவனி- சரியானதை தேர்க

- 1) இந்தியாவில் 97.3% நீர் மாசுபட்டிருக்கிறது
- 2) உலகில் குடிப்பதற்கு ஏற்றதாக உள்ள நீர் 1% மட்டுமே
- 3) ஆறு, ஏரி, பனிமலை மற்றும் நிலத்தடியில் உள்ள நீரின் அளவு 4/5 பங்கு
- 4) கடல் பெருங்கடலில் உள்ள நீரின் அளவு 2.7%

- |                      |                  |
|----------------------|------------------|
| A) 1,2 மற்றும் 3 சரி | B) 1 மட்டும் சரி |
| C) 2,4 மட்டும் சரி   | D) 2 மட்டும் சரி |

141 கீழ்க்காணும் இந்திய முக்கிய ஏரிகளில் நன்னீர் (Fresh Water) ஏரி எது?

- 1) வேப்பநாடு ஏரி (vembanad)
- 2) புலிக்காட் ஏரி (pulicat)
- 3) கொல்லேரு ஏரி (kolleru)
- 4) பான்காங் ஏரி (pangong)

ஆதித்யா TNPSC பயிற்சி மையம், காஞ்சிபுரம், செல் : 9786851468, 9952765173



142 உலகில் வீசும் காற்றுகளை பொருத்துக

பட்டியல் I

- A) ஸ்னோ ஈட்டர் (Snow Eater) -  
 B) மிஸ்ட்ரால் (Mistral) -  
 C) நார்வெஸ்ட்டர் (Norwester) -  
 D) சாண்டா அனா (Santa Ana) -

பட்டியல் II

1. ஆல்ப்ஸ் மலை பிரான்ஸ்  
 2. நியூசிலாந்து  
 3. கலிபோர்னியா USA  
 4. ராக்கி மலை தென் அமேரிக்கா

	A	B	C	D
A)	4	1	2	3
B)	4	1	3	2
C)	3	2	4	1
D)	3	2	1	4

143 மணிமேகலை என்ற நூல் தொடர்புடையது

- A) இந்து சமயம் B) சமண சமயம்  
 C) கிருஸ்துவ சமயம் D) பௌத்த சமயம்

144 கிச்சன் கேபினட் (Kitchen Cabinet) யை முதலில் தொடங்கிய பிரதமர்

- A) இந்திரா காந்தி B) வாஜ்பாய்  
 C) ராஜீவ் காந்தி D) ஜவகர்லால் நேரு

145. பட்டியல் I உடன் பட்டியல் II யை பொருத்தி கொடுக்கப்பட்டுள்ள குறியீடுகளை கொண்டு சரியாக பொருத்துக

- A) முதல் தேர்தல் - 1. 1953  
 B) முதல் திருத்தம் - 2. 1991  
 C) டெல்லி தலைநகரானது - 3. 1952  
 D) ஆந்திரா முதல் மொழிவாரிய மாநிலம் - 4. 1951

	A	B	C	D
A)	3	4	2	1
B)	3	4	1	2
C)	4	3	1	2
D)	4	3	1	2

ஆதித்யா TNPSC பயிற்சி மையம், காஞ்சிபுரம், செல் : 9786851468, 9952765173

146 யூனியன் பிரதேச உயர்நீதி மன்ற இணையில் தவறானது?

- A) பாண்டிச்சேரி - சென்னை உயர்நீதிமன்றம்
- B) தாதர் நாகர் ஹவேலி - கர்நாடக உயர்நீதிமன்றம்
- C) அந்தமான் நிக்கோபார் - கொல்கத்தா உயர் நீதிமன்றம்
- D) லட்சத் தீவுகள் - கேரள உயர்நீதி மன்றம்

147. பொருத்துக : 2015 தமிழக அரசு விருதுகள்

பட்டியல் I

பட்டியல் II

- |                         |                      |
|-------------------------|----------------------|
| A) கல்பனா சால்வா விருது | - 1. திரு பாஸ்கரன்   |
| B) கி.ஆ.பெ விருது       | - 2. கஸ்தூரி ராஜா    |
| C) திருவள்ளூர் விருது   | - 3. திரு.ஜேம்ஸ்     |
| D) அண்ணா விருது         | - 4. ஜோதி மணி கௌதமன் |

	A	B	C	D
A)	1	4	3	2
B)	1	4	2	3
C)	4	3	2	1
D)	4	3	1	2

148 மத்திய அரசு ஒதுக்கி உள்ள நிர்வாயா நிதி 1000 கோடி என்பது

- A) மாநிலங்களில் நீர் பாசன வசதி திட்டத்திற்கு
- B) எல்லை பாதுகாப்பு படைவீரர்கள் குடும்ப பாதுகாப்பு திட்டத்திற்கு
- C) பெண்களுக்கான பாதுகாப்பு திட்டத்திற்கு
- D) வடகிழக்கு எல்லையில் மாவோயிஸ்டுகளை ஒடுக்க

149. பொருந்திய இணையைத் தேர்:-

- A) உலக போலியோ தினம் - அக்டோபர் 24
- B) உலக எழுத்தறிவு தினம் - அக்டோபர் 8
- C) உலக யோகா தினம் - ஜூலை 21
- D) உலக மனித உரிமைகள் தினம் - டிசம்பர் 1

ஆதித்யா TNPSC பயிற்சி மையம், காஞ்சிபுரம், செல் : 9786851468, 9952765173

150. பொருத்துக :-

பட்டியல் I

- A) கஸ்தூரி பாய் காந்தி மல்லிகர்  
வித்தியாலயா திட்டம்
- B) சுகம்யா பாரத் அபியான்
- C) My Gov
- D) ராஷ்டிரிய ஸ்வஸ்திய பீமா யோஜனா

பட்டியல் II

- 1. கைத்தறி நெசவாளர்களுக்கான  
திட்டம்
- 2. மக்களும் ஆட்சியில் பங்கு  
கொள்ளுதல்
- 3. பெண் குழந்தைகளுக்கான  
தரமான கல்வி அளிக்க
- 4. மாற்று திறனாளிகளுக்கான திட்டம்

	A	B	C	D
A)	1	3	4	2
B)	3	1	4	2
C)	3	4	1	2
D)	3	4	2	1

151. 2015 ன் கிரான்ட் ஸ்லாம் (Grand slam) மகளிர் ஒற்றையர் போட்டிகளில்  
செரினா வில்லியம்ஸ் வெற்றி பெறாதது?

- A) பிரெஞ்சு ஒப்பன்
- B) விம்பிள்டன்
- C) U.S ஒப்பன்
- D) ஆஸ்திரேலியா ஒப்பன்

152 2015 ல் இந்தியா விண்ணிற்க்க செலுத்திய ஏவுகணைகளை வரிசைபடுத்துக

i) Astrosat

ii) IRNSS – 1D

iii) GSAT - 6

iv) GSAT - 15

A) i,ii,iii,iv

B) ii,iv,i,iii

C) ii,iv,i,iii

D) ii,iii,i,iv

ஆதித்யா TNPSC பயிற்சி மையம், காஞ்சிபுரம், செல் : 9786851468, 9952765173

153. பொருத்துக :-

பட்டியல் I

- A) ஆகாக்கான் (Agakhan) கோப்பை  
 B) ஈரானி (Irani) கோப்பை  
 C) தூரன் (Durand)  
 D) ராமானுஜம் (Ramanujam ) கோப்பை

பட்டியல் II

- 1. டேபிள் டென்னிஸ் போட்டி  
 - 2. கால்பந்து போட்டி  
 - 3. கிரிக்கெட் போட்டி  
 - 4. ஆக்கி போட்டி

	A	B	C	D
A)	4	3	2	1
B)	4	3	1	2
C)	4	1	3	2
D)	4	1	2	3

154. பொருத்துக :-

பட்டியல் I

- A) பரத நாட்டியம்  
 B) கர்நாடக சங்கீதம்  
 C) சித்தார் (Sitar)  
 D) புல்லாங்குழல் (Flute)

பட்டியல் II

1. V.L.வசந்த குமாரி  
 2. ரவிசங்கர்  
 3. T.R.மகாலிங்கம்  
 4. ருக்மணி தேவி

	A	B	C	D
A)	4	1	3	2
B)	4	1	2	3
C)	4	3	2	1
D)	4	3	1	2

155 (BRICS ) பிரிஸ்க்ஸ் அமைப்பில் உள்ள நாடுகள்

- A) பல்கேரியா, ரஷ்யா, இந்தியா, சீனா, தென் ஆப்பிரிக்கா  
 B) பெல்ஜியம், ரஷ்யா, இந்தியா, சிலி, தென் ஆப்பிரிக்கா  
 C) பிரேசில், ரஷ்யா, இந்தியா, சீனா, தென் ஆப்பிரிக்கா  
 D) பாங்களாதேஷ், ரஷ்யா, இந்தியா, சீனா, ஸ்ரீலங்கா

ஆதித்யா TNPSC பயிற்சி மையம், காஞ்சிபுரம், செல் : 9786851468, 9952765173

156. செல் சுழற்சி நிலைகளை பொருத்துக

- A) S நிலை - 1. RNA உற்பத்தி  
 B) G<sup>2</sup> நிலை - 2. புரதம் உருவாதல்  
 C) M நிலை - 3. DNA உற்பத்தி  
 D) G<sup>1</sup> நிலை - 4. செல்பிரிதல்

	A	B	C	D
A)	3	1	4	2
B)	3	1	2	4
C)	2	4	3	1
D)	2	4	1	3

157. உலக நாடுகளின் நாணயங்களை வரிசைபடுத்து

- A) ஜப்பான் - 1. மார்க்  
 B) ஜெர்மனி - 2. யுவான்  
 C) சீனா - 3. ஷிலாங்  
 D) அர்ஜென்டினா - 4. யென்  
 E) ஆஸ்திரியா - 5. பிசோ

	A	B	C	D	E
A)	2	4	5	1	3
B)	4	1	2	5	3
C)	4	1	2	3	5
D)	4	3	2	1	5

ஆதித்யா TNPSC பயிற்சி மையம், காஞ்சிபுரம், செல் : 9786851468, 9952765173

158. பொருத்துக  
நீளம்

ஆற்றின் பெயர்

- A) 5464 - 1. நைல்  
B) 6275 - 2. மஞ்சள் ஆறு (Huangho)  
C) 6650 - 3. அமேசான்  
D) 6428 - 4. மிசிசிபி

	A	B	C	D
A)	3	1	4	2
B)	3	1	2	4
C)	2	4	3	1
D)	2	4	1	3

159 சரியான இணையைத் தேர்வக

- A) சந்திர ஒளிப்பு நேரம் - 8 நிமிடம் 16.6 நொடி  
B) சூரிய ஒளி பூமிக்கு வருவதற்கு - 1.3 நொடிகள்  
C) சூரிய ஒளி மறைப்பு நேரம் - 8 நிமிடங்கள்  
D) சந்திரனின் ஒளி பூமியை வந்தடைய - 100 நிமிடங்கள்

- A) i,iv சரி B) i,iii சரி  
C) iii மட்டும் சரி D) ii மட்டும் சரி

160. பொருத்துக

- A) லோயஸ் - 1. கடினப் பாறையின் உச்சி  
B) பர்கான் - 2. பாலைவனத்தில் அரிக்கப்பட்ட மணல்போல் தெரிவது  
C) யார்டாங் - 3. பாலைவனத்தில் படிந்திருக்கும் நுண்ணிய மணல்  
D) சூகன் - 4. பிறைச்சந்திர வடிவ மணல் குன்றுகள்

	A	B	C	D
A)	3	4	2	1
B)	3	1	2	4
C)	2	4	3	1
D)	2	4	1	3

ஆதித்யா TNPSC பயிற்சி மையம், காஞ்சிபுரம், செல் : 9786851468, 9952765173

- 161 தமிழ்நாட்டில் உள்ள உலக புராதன சின்னங்கள் UNESCO வால் அங்கிகரிக்கப்பட்டதை காலவரிசைப்படுத்துக.
- A) நீலகிரி மலை ரயில்  
B) கங்கை கொண்ட சோழபுரம் கோயில்  
C) மாமல்லபுரக் கோயில்கள்  
D) ஐராவதீஸ்வரர் கோயில்
- A) i, ii, iii, iv  
B) i, iv, iii, ii  
C) i, iii, iv, ii  
D) ii, iii, i, iv
- 162 RESCUE என்ற வார்த்தை SDTBVD என்று குறியிடப்படின் EROSION என்ற வார்த்தை எவ்வாறு குறியிடப்படும்?
- A) FQPRJNO  
B) FQPJNOR  
C) Fq PNOZR  
D) ZOPIMNH
- 163 சாம்பல் நீர் மின் சக்தி திட்டத்தின் மூலம் பயன்பெறும் மாநிலங்கள்
- A) குஜராத் - ராஜஸ்தான்  
B) குஜராத் - மத்திய பிரதேஷ்  
C) ராஜஸ்தான் - மத்திய பிரதேஷ்  
D) குஜராத் - மகாராஷ்டிர
- 164 சரியானதைக் காண்
- A) குடியரசு தலைவரால் நியமனம் செய்யப்படும் உறுப்பினர்களுக்கு வாக்களிக்கும் உரிமை இல்லை  
B) பிரதமர், இதர மந்திரிகளின் ஊதியம், படிக்களை நிர்ணயிப்பது கேபினட் குழு  
C) கூட்டு பாராளுமன்றத்திற்கு தலைமை தாங்குபவர் சபாநாயகர்  
D) பாராளுமன்றத்தால் தேர்ந்தெடுக்கப்படாமல் பாராளுமன்ற நிகழ்ச்சிகளில் கலந்து கொள்பவர் உச்ச நீதிமன்ற தலைமை நீதிபதி
- A) I, IV சரி  
B) I, III சரி  
C) III சரி  
D) II சரி
165. தமிழ்நாட்டில் ஆட்சி செய்த நீதிக்கட்சி அல்லாத முதலமைச்சர்
- A) பி. முனுசாமி நாயுடு  
B) எ. சுப்புராயலு  
C) டாக்டர் பி. சுப்புராயன்  
D) பொப்லி அரசர்

166. பொருத்துக

- A) இயல்பான இரத்த அழுத்தம் - 1. 160 - 95 mmHg  
 B) உணவுக்கு முன் குளுக்கோஸ் அளவு - 2. 100 mm Hg  
 C) மூச்சு சிற்றறையல் ஆக்ஸிஜன் அழுத்தம் - 3. 120 - 80 mm Hg  
 D) மிகை அழுத்தம் - 4. 70 - 110mm Hg

	A	B	C	D
A)	3	4	2	1
B)	4	2	3	1
C)	1	4	2	3
D)	3	2	4	1

167. பொருத்துக

- A) டைபாய்டு - 1. பிளாஸ்மோடியம் பால்சிபாரம்  
 B) மலேரியா - 2. ஆங்கோஜெனிக் வைரஸ்  
 C) புற்றுநோய் - 3. சால்மோனெல்லா டை.பி  
 D) பெரியம்மை தடுப்பூசி தயாரிக்க பயன்படும் வைரஸ் - 4. வாக்சீனியா வைரஸ்

	A	B	C	D
A)	1	3	2	4
B)	3	1	2	4
C)	2	1	3	4
D)	3	4	2	1

168. கீழ்க்கண்டவற்றுள் எது சரி ?

- A) மனித வளர்ச்சி குறியீடு - ஐக்கிய நாடுகள்  
 B) பி.கியூ.எல்.ஐ - 1996  
 C) சமுதாய காரணிகள் - இந்தியா  
 D) வளர்ச்சி அளவுகள் - மோரிஸ்

ஆதித்யா TNPSC பயிற்சி மையம், காஞ்சிபுரம், செல் : 9786851468, 9952765173



169. பொருத்துக

- A) மிகப்பெரிய குரோமோசோம் தொகுதி - 1. aa  
 B) Y குரோமோசோம் தொகுதி - 2. தொகுதி C  
 C) X குரோமோசோம் தொகுதி - 3. தொகுதி G  
 D) அல்பினிசம் தோன்றக் காரணமான ஓடுங்கு ஜீன் - 4. தொகுதி

	A	B	C	D
A)	3	2	4	1
B)	1	3	2	4
C)	2	3	4	1
D)	4	3	2	1

170 “காங்கிரசை தள்ளாடி கொண்டிருக்கும் அசுத்தமான அமைப்பு” என சாடியவர்?

- A) மிண்டோ பிரபு  
 B) கர்சன் பிரபு  
 C) டி.பிரின் பிரபு  
 D) மேயோ பிரபு

171. பொருத்துக

- A) மிகப்பெரிய பூக்கும் தாவரம் - 1. செக்கோயா  
 B) பூச்சி உண்ணும் தாவரம் - 2. ராப்லேசியா  
 C) உயரமான ராட்சஸ தாவரம் - 3. டிரோசிரோ, யூட்ரிகுலோரியா  
 D) திறந்த விதைத் தாவரம் - 4. சைகஸ், பைன்

	A	B	C	D
A)	3	2	4	1
B)	2	3	1	4
C)	2	1	3	4
D)	2	1	4	3

172. சரியாக பொருந்திய இணை

- A) உமிழ்நீரில் கண்ணீரில் உள்ள பாக்கிரிய எதிர்ப்பு பொருள் - பாராடோப்  
 B) ஆன்டிபாடியுடன் இணையும் ஆன்டிஜன் - லைசோசோம்  
 C) வைரஸ் எதிர்ப்புப் பொருள் - இன்டர்பெரான்  
 D) ஆன்டிஜென்னுடன் இணையும் ஆன்டிபாடி - எபிடோப

ஆதித்யா TNPSC பயிற்சி மையம், காஞ்சிபுரம், செல் : 9786851468, 9952765173

173. பின்வருவனவற்றுள் எது மத்திய அரசு வசூலிக்கும் வரியல்ல?

- A) வருமானவரி  
B) நிலவரி  
C) கம்பெனி வரி  
D) உற்பத்தி வரி

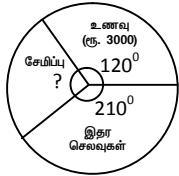
174. சுதந்திரமான வர்த்தம் என்பது (Free Trade)

- A) இறக்குமதி பொருள்களின் மீதுவரி இல்லை  
B) ஏற்றுமதி பொருள்களின் மீது வரி இல்லை  
C) ஏற்றுமதி இல்லை  
D) ஏற்றுமதி இறக்குமதி பொருள்களுக்கு வரி இல்லை

175 சுற்றுப் பாதையும் சுழற்சியும் (Equal Rotation and Revolution) சமமாக கொண்ட கோள்

- A) பூமி (Earth)  
B) வெள்ளி (Venus)  
C) வியாழன் (Jupiter)  
D) சனி (Saturn)

176. ஒரு மாத செலவுகள் வட்ட விளக்கப்படத்தில் உள்ளது



- A) 700  
B) 750  
C) 780  
D) 7500

177. ஒரு உள்ளீடற்ற கோளத்தின் வெளி மற்றும் உள் ஆரங்கள் முறையே 12 செ.மீ மற்றும் 10 செ.மீ எனில் அக்கோளத்தின் கன அளவைக் காண்க

- A)  $3050 \frac{2}{3}$  செ.மீ<sup>3</sup>  
B)  $3049 \frac{2}{3}$  செ.மீ<sup>3</sup>  
C)  $3060 \frac{2}{3}$  செ.மீ<sup>3</sup>  
D)  $3059 \frac{2}{3}$  செ.மீ<sup>3</sup>

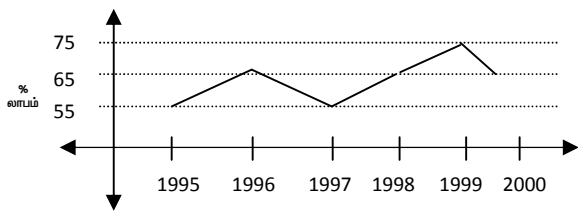
178. மதிப்பைக் காண்

$$\sqrt{41 - \sqrt{21} + \sqrt{19} - \sqrt{9}}$$

- A) 7  
B) 5  
C) 6  
D) 9

ஆதித்யா TNPSC பயிற்சி மையம், காஞ்சிபுரம், செல் : 9786851468, 9952765173

179. 1998-ல் வருமானம் 264 கோடிகள் எனில் 98 -ன் செலவுகள் ?



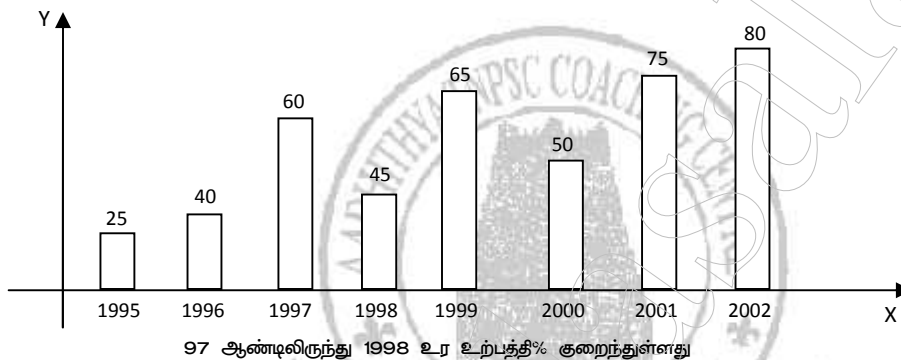
A) 150 Cr

B) 160 Cr

C) 170 Cr

D) 180 Cr

180. 1997 ஆண்டிலிருந்து 1998 உற்பத்தி எவ்வளவு குறைந்துள்ளது ?



97 ஆண்டிலிருந்து 1998 உற்பத்தி% குறைந்துள்ளது

A) 20%

B) 25%

C) 30%

D) 40%

181. ஒரு தொகை 3 ஆண்டுகளில் தனிவட்டியில் ரூ 690 ஆகவும் ஒரு தொகை 5 ஆண்டுகளில் தனிவட்டியில் ரூ. 750 ஆனால் அத்தொகை ?

A) 700

B) 600

C) 725

D) 625

182. 15 ஆட்கள் 9 மணிநேரம் வீதம் 16 நாட்களில் ஒரு களத்தை அறுவடை செய்வார் 18 ஆட்கள் 8 மணிநேரம் வீதம் x நாட்களில் அதே களத்தை அறுவடை செய்வார் ?

A) 15 நாட்கள்

B) 25 நாட்கள்

C) 20 நாட்கள்

D) 18 நாட்கள்

ஆதித்யா TNPSC பயிற்சி மையம், காஞ்சிபுரம், செல் : 9786851468, 9952765173

183. ஒரு பொருளின் குறித்த விலை ரூ. 1500 இதனை ரூ 1350 க்கு விற்றால் தள்ளுபடி
- A) 12 B) 15  
C) 11 D) 10
184. 
$$\frac{0.728 \times 0.728 - 0.272 \times 0.272}{0.456}$$
- A) 0.456 B) 1  
C) 0.728 D) 0.275
185. இரு எண்களின் விகிதம் 4 : 7 அவை ஒவ்வொன்றிலிருந்தும் 4 யை கூட்டினால் அவற்றின் விகிதம் 3 : 5 எனில் பெரிய எண் ?
- A) 36 B) 48  
C) 56 D) 64
186. மூன்று மிகை எண்களின் விகிதம் 4 : 5 : 6 அவற்றின் சராசரி 25 பெரிய எண் ?
- A) 30 B) 32  
C) 36 D) 42
187. இருவரின் வயது விகிதம் 4 : 3 அவர்களின் வயதுகளின் கூடுதல் 28, எட்டு ஆண்டுகளுக்கு பிறகு அவர்களின் வயது விகிதம் ?
- A) 4 : 3 B) 12 : 11  
C) 7 : 4 D) 6 : 5
188. கீழே கொடுக்கப்பட்ட படத்திலிருந்து அடுத்து வரும் படத்தினைக் கண்டுபிடி
- 
- A) B) C) D)
189. அரை வட்ட வடிவிலான பூங்காவின் வேலியாகப் பயன்படுத்தப்பட்ட சங்கிலியின் நீளம் 72 மீ எனில் பூங்காவின் பரப்பு ?
- A) 77 மீ<sup>2</sup> B) 91 மீ<sup>2</sup>  
C) 126 மீ<sup>2</sup> D) 308 மீ<sup>2</sup>

ஆதித்யா TNPSC பயிற்சி மையம், காஞ்சிபுரம், செல் : 9786851468, 9952765173

190. ஒரு சமபக்க முக்கோணத்தின் பக்கம் 4 செ.மீ எனில் அதன் உயரம்

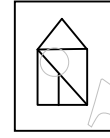
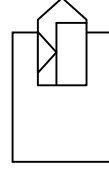
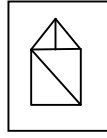
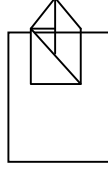
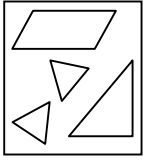
A)  $2\sqrt{3}$

B)  $4\sqrt{3}$

C)  $8\sqrt{3}$

D) 4

191. கீழே கொடுக்கப்பட்ட வடிவியல் உருவங்களில் எது சரியாக பொருத்தப்பட்டுள்ளது?



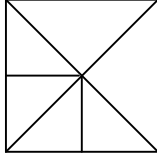
A)

B)

C)

D)

192. கீழே கொடுக்கப்பட்டுள்ள படத்தில் எத்தனை முன்கோணங்கள் உள்ளன?



A) 10

B) 8

C) 12

D) 14

193. 60 லிட்டர் கலவையில் பால், தண்ணீர் விகிதம் 2 : 1 இந்த விகிதம் 1 : 2 ஆக இருக்க வேண்டுமெனில் கூடுதலாக சேர்க்க கூடிய தண்ணீர் அளவு?

A) 20 லி

B) 30 லி

C) 50 லி

D) 60 லி

194. ரவி, ராம் தற்போதைய வயது விகிதம் 3 : 5 9 ஆண்டிற்கு பிறகு வயது விகிதம் 3 : 4 எனில் ரவின் தற்போதைய வயது?

A) 9

B) 15

C) 18

D) 24

195. ஒருவரின் தற்போதைய வயது அவர் தாயின் வயதில் ஐந்தில் இரண்டு மடங்காக உள்ளது. 8 வருடங்களுக்கு பிறகு அவரின் வயது தாயின் வயதில் பாதி எனில் தாயின் தற்போதைய வயது?

A) 42

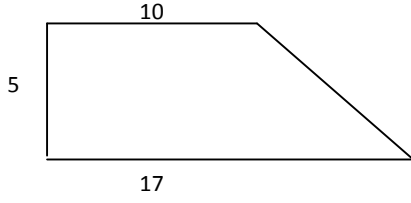
B) 40

C) 45

D) 48

ஆதித்யா TNPSC பயிற்சி மையம், காஞ்சிபுரம், செல் : 9786851468, 9952765173

196. கீழ்க்கண்ட உருவத்தின் பரப்பு காண்க



- A) 62.5                      B) 67.0  
C) 67.5                      D) 65.7

197. இரண்டு கூம்புகள் சம ஆரங்கள் கொண்டுள்ளன. மேலும் அவற்றின் சாயுயரங்களின் விகிதம் 4 : 3 எனில் வளைபரப்புகளின் விகிதம்

- A) 16 : 9                      B) 2 : 3  
C) 4 : 3                      D) 3 : 4

198. 10 எண்களின் கூட்டு சராசரி -7, ஒவ்வொரு எண்ணுடனும் 5-ஐக் கூட்டினால் கிடைக்கும் புதிய கூட்டு சராசரி

- A) -2                              B) 12  
C) -7                              D) 17

199. ஒரு நோக்கோட்டின் சாய்வு  $\sqrt{3}$  எனில் அக்கோடு x அச்சுடன் ஏற்படுத்தும் கோணம்

- A)  $30^\circ$                               B)  $45^\circ$   
C)  $90^\circ$                               D)  $60^\circ$

200. மூன்று மிகை எண்களின் வர்க்கங்களின் கூடுதல் 608, அவற்றின் விகிதங்கள் 2 : 3 : 5 எனில் அந்த எண்கள் யாவை?

- A) 6, 9, 15                              B) 8, 12, 20  
C) 10, 15, 25                              D) 14, 21, 35

ஆதித்யா TNPSC பயிற்சி மையம், காஞ்சிபுரம், செல் : 9786851468, 9952765173



ஆதித்யா TNPSC பயிற்சி மையம், காஞ்சிபுரம், செல் : 9786851468, 9952765173

<http://www.trbtpsc.com/2013/09/tnpsc-group-2-group-4-vao-exam-study.html>



ஆதித்யா TNPSC பயிற்சி மையம், காஞ்சிபுரம், செல் : 9786851468, 9952765173

<http://www.trbtpsc.com/2013/09/tnpsc-group-2-group-4-vao-exam-study.html>



**ANSWER KEY**

Q.No	ANS	Q.N	ANS	Q.No	ANS	Q.No	ANS	Q.No	ANS
1	B	41	A	81	C	121	D	161	B
2	D	42	C	82	D	122	B	162	A
3	A	43	B	83	C	123	D	163	B
4	A	44	A	84	D	124	A	164	C
5	C	45	C	85	B	125	C	165	C
6	A	46	D	86	B	126	D	166	A
7	D	47	A	87	D	127	B	167	B
8	C	48	B	88	D	128	D	168	A
9	B	49	C	89	A	129	D	169	D
10	A	50	B	90	C	130	C	170	B
11	A	51	C	91	A	131	A	171	B
12	C	52	B	92	B	132	B	172	C
13	B	53	A	93	D	133	C	173	B
14	D	54	A	94	B	134	C	174	D
15	A	55	D	95	D	135	C	175	B
16	B	56	C	96	A	136	D	176	B
17	B	57	C	97	A	137	C	177	A
18	D	58	A	98	D	138	A	178	C
19	B	59	C	99	C	139	A	179	B
20	D	60	D	100	C	140	D	180	B
21	C	61	A	101	A	141	C	181	B
22	C	62	C	102	C	142	A	182	A
23	A	63	D	103	C	143	D	183	D
24	D	64	D	104	C	144	D	184	B
25	A	65	B	105	C	145	A	185	C
26	B	66	D	106	B	146	B	186	A
27	B	67	B	107	B	147	D	187	D
28	C	68	D	108	C	148	C	188	D
29	B	69	B	109	D	149	A	189	D
30	C	70	B	110	C	150	D	190	A
31	C	71	A	111	C	151	C	191	A
32	D	72	D	112	D	152	D	192	C
33	C	73	C	113	C	153	A	193	D
34	A	74	C	114	C	154	B	194	B
35	D	75	D	115	C	155	C	195	B
36	A	76	C	116	D	156	A	196	C
37	C	77	A	117	D	157	B	197	C
38	A	78	C	118	B	158	D	198	A
39	B	79	B	119	D	159	C	199	D
40	D	80	D	120	B	160	A	200	B

ஆதித்யா TNPSC பயிற்சி மையம், காஞ்சிபுரம், செல் : 9786851468, 9952765173

<http://www.trbtpsc.com/2013/09/tnpsc-group-2-group-4-vao-exam-study.html>